

Prénom :

Date :

CE1 Période 1

Evaluation de : Organisation et gestion des données

/ 100

Compétences évaluées :

Evaluation

Connaître et utiliser des procédures de calcul mental pour calculer des sommes, des différences et des produits.

Résoudre des problèmes relevant de l'addition, de la soustraction.

Lire et renseigner un tableau à double entrée

Exercice n°1 : Observe et complète.

Voici le tableau des ventes de la cafétéria de la patinoire.

	Chocolat chaud	Lait	Jus de pomme	Jus d'orange
LUNDI	15	7	8	9
MARDI	12	5	13	11
MERCREDI	10	8	12	17
JEUDI	16	4	8
VENDREDI	6	14	15



1. Combien de chocolats a-t-on vendus jeudi ?
2. Quel jour a-t-on vendu 15 jus d'orange ?
3. Mardi, quelle boisson a été la plus vendue ?
4. Lundi, quelle boisson a été la moins vendue ?
5. On a vendu 10 chocolats le vendredi et 12 jus de pomme le jeudi.

Complète le tableau des ventes.

Exercice n°2 : Réponds aux questions.



Dans un bouquet, il y a 4 tulipes, 3 marguerites et 5 roses. Combien y a-t-il de fleurs ?

Mon calcul :

Il y a fleurs.



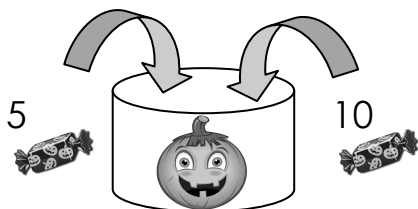
Nicolas avait 10 billes ce matin, à la récréation, il en a perdu 3. Combien de billes lui reste-t-il ?

Mon calcul :

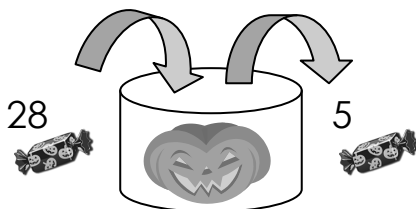
Il lui reste.....billes

Exercice n°3 :


Pour Halloween chacun a fait sa récolte de bonbons, mais certains en ont déjà mangé !
Combien y-a-t-il de bonbons dans chaque bocal ?



Il y a bonbons.



Il y a bonbons.



Il y a bonbons.