

Prénom :

Date :

CE1 Période 4 Evaluation de : Mesure

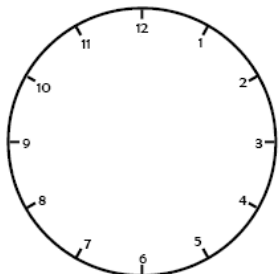
/ 100

Compétence évaluée :

- Savoir lire l'heure
- Connaître la relation entre heures et minutes

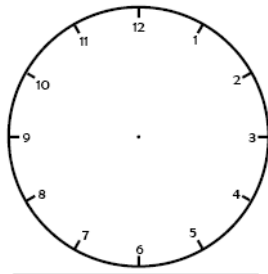
Evaluation

N°1 : Trace les aiguilles des horloges et complète les heures du matin ou de l'après midi



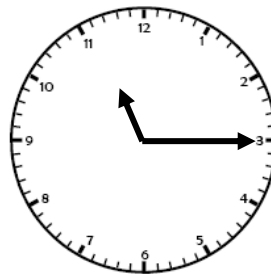
2 h 00

14 h 00



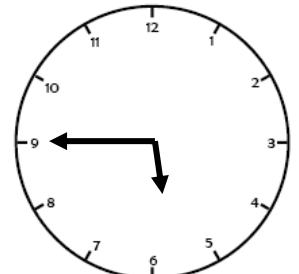
h

18 h 30



h

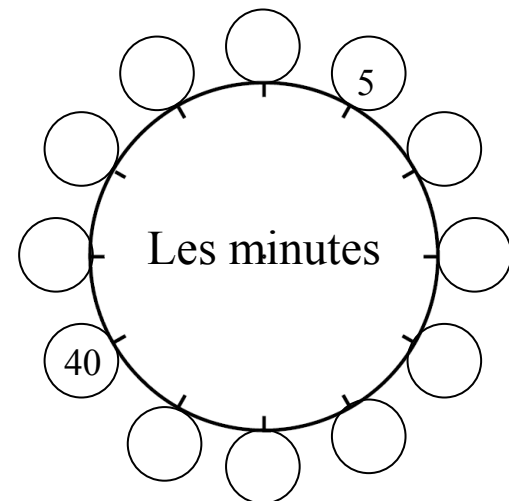
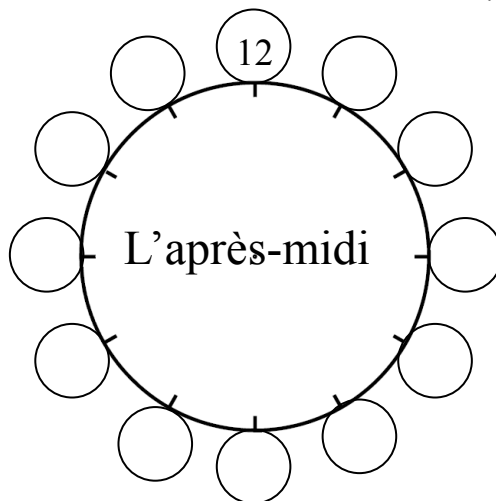
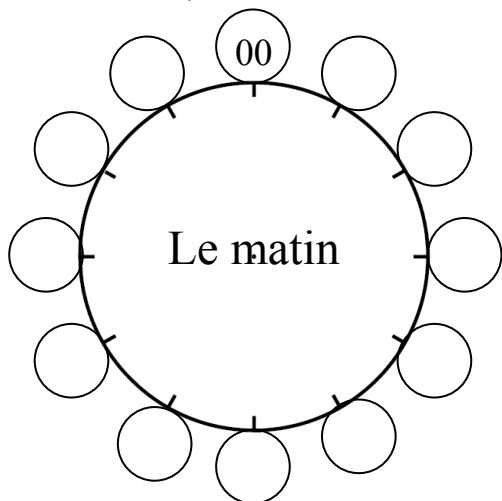
h



h

h

N°2 : complète le cadran avec les heures du matin, de l'après midi et les minutes .



N°3 : Réponds aux questions :

Dans une heure, il y a combien de minutes ?

.....

Dans une journée, il y a combien d'heures ?

.....

N°4 : Choisis la bonne réponse :

Une journée de classe dure : 2 heures 10 heures 8 heures

Une récréation dure : 1 heures 5 minutes 20 minutes

Un film au cinéma dure : 2 heures et 30 minutes 5 heures 30 minutes

Aller aux toilettes dure : 3 minutes 15 minutes une demie heure

Un match de foot dure : 45 minutes une heure 90 minutes