


DÉFI MATHS CE1 N°2

N°1 : LES ANIMAUX

5 POINTS


Dessine ce qui manque dans chaque grille.



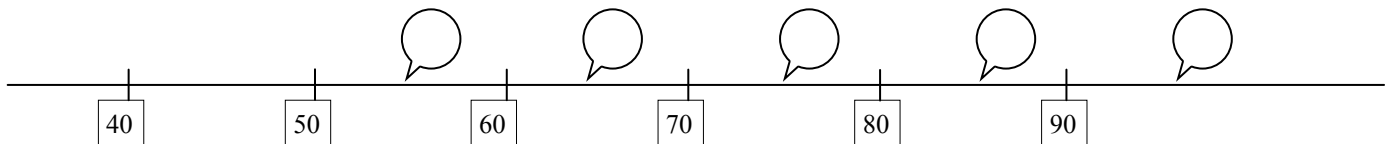
N°2 : EN ORDRE

5 POINTS

Place les nombres 17 - 29 - 36 - 8 - 34 dans les étiquettes correspondantes.




Place les nombres 85 - 71 - 97 - 55 - 63 dans les bonnes étiquettes

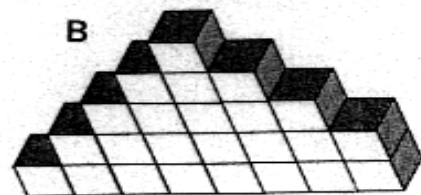


N°3 : LES MURS

10 POINTS



Combien de cubes comptes-tu dans chaque mur ?




N°4 : LE CARRELAGE

10 POINTS


Le maçon a entouré les 4 carrés gris avec 12 carrés blancs.

Combien faut-il de carrés verts pour entourer les carrés blancs ?



N°5 : LE SERVICE

10 POINTS



Benjamin met la table pour 17 personnes.
Il doit placer 2 verres et 1 assiette par personne.
Combien faut-il de verres ?
Combien faut-il d'assiettes ?
9 assiettes et 23 verres sont déjà en place.
Combien d'assiettes reste-t-il à mettre ?
Et combien de verres ?

N°6 : EN CLASSE DE NEIGE**15 POINTS**


Lors de leur dernière classe de neige, les enfants ont commencé à skier le 28 janvier. Ils ont pris leur dernier cours le 11 février. Combien de jours les enfants ont-ils skié ?

**N°7: DEVINETTES****15 POINTS**

- 1) Je suis un nombre compris entre 60 et 70. Si on m'ajoute 3 mon chiffre des unités est 5 et je suis pair. Qui suis-je ?
- 2) Je suis un nombre compris entre 85 et 95. Mon chiffre des dizaines est le même que mon chiffre des unités. Qui suis-je ?
- 3) Je suis le double du nombre trouvé en additionnant tous les chiffres de 222. Qui suis-je ?

N°8 : LE BON COMPTE**15 POINTS**

Chaque enfant a une étiquette marquée d'un nombre



Le gagnant est celui qui arrive, par addition des jetons tirés par la maîtresse, à trouver le nombre de son étiquette.

| | | | |
|-------------------------|---------------|--------------------|-----------|
| 1 ^{ère} partie | Nombres tirés | > 20 - 10 - 30 - 2 | Gagnant ? |
| 2 ^{ème} partie | Nombres tirés | > 20 - 40 - 10 - 8 | Gagnant ? |
| 3 ^{ème} partie | Nombres tirés | > 50 - 30 - 11 | Gagnant ? |

N°9 : LES SIGNES EFFACES**15POINTS**

Inscris les signes + et - pour trouver le résultat.

$$7 \square 9 \square 4 \square 1 = 11$$

$$10 \square 4 \square 7 \square 5 = 8$$

$$9 \square 3 \square 2 = 8$$

DÉFI MATHS CE1 N°2


100

Equipe : _____

Elèves : _____

N°1 : LES ANIMAUX

Nous dessinons l'animal manquant dans chaque grille.

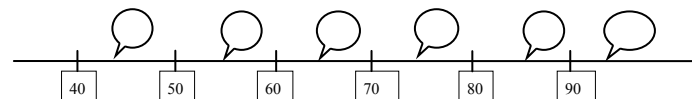


N°2 : EN ORDRE

Place les nombres 17 - 29 - 36 - 8 - 34 dans les étiquettes correspondantes.



Place les nombres 85 - 71 - 97 - 55 - 63 dans les bonnes étiquettes



N°3 : LES MURS

Nous comptons cubes dans le mur A.

Nous comptons cubes dans le murs B.

N°4 : LE CARRELAGE

Il faut carrés verts pour entourer les carrés blancs

N°5 : LE SERVICE

Il faut verres.

Il faut assiettes.

Il reste assiettes à mettre.

Il reste verres à mettre.

N°6 : EN CLASSE DE NEIGE

Les enfants ont skié jours.



N°7 : DEVINETTES

Les nombres à trouver :

- 1) Je suis le nombre :
- 2) Je suis le nombre :
- 3) Je suis le nombre :

N°8 : LE BON COMPTE

1ière partie: le gagnant est

2ième partie: le gagnant est

3ième partie: le gagnant est

N°9 : LES SIGNES EFFACES

Nous inscrivons les signes suivants:

$$7 \square 9 \square 4 \square 1 = 11$$

$$10 \square 4 \square 7 \square 5 = 8$$

$$9 \square 3 \square 2 = 8$$



Prenez bien le temps de réfléchir tous ensemble !