

Prénom :

Date :

CE1 Période 5 Evaluation de : géométrie

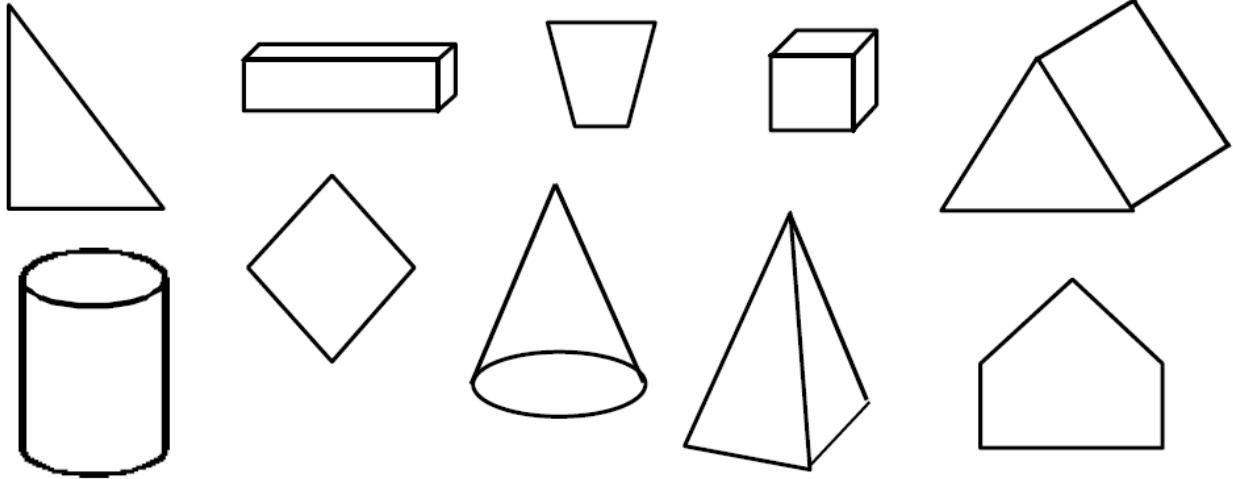
/ 100

Compétence évaluée :

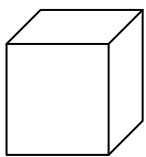
- reconnaître, nommer et décrire les figures planes et les solides usuels

Evaluation

N°1 : Colorie les figures qui sont des solides.



N°2 : Décrit les solides suivants.



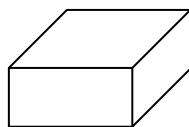
nombre de faces :

nombre d'arêtes :

nombre de sommets :

Les faces sont toutes des

Je suis un



nombre de faces :

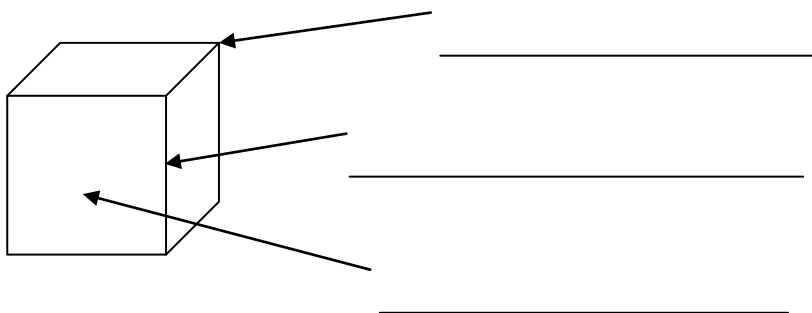
nombre d'arêtes :

nombre de sommets :

Les faces sont toutes des

Je suis un

N°3 : Légende le solide suivant :



N°4 : A quels solides appartiennent ces patrons ?

