

Prénom :

Date :

CE1 Période 3

Evaluation de : les triangles rectangles et les angles droits

/ 100

Compétences évaluées :

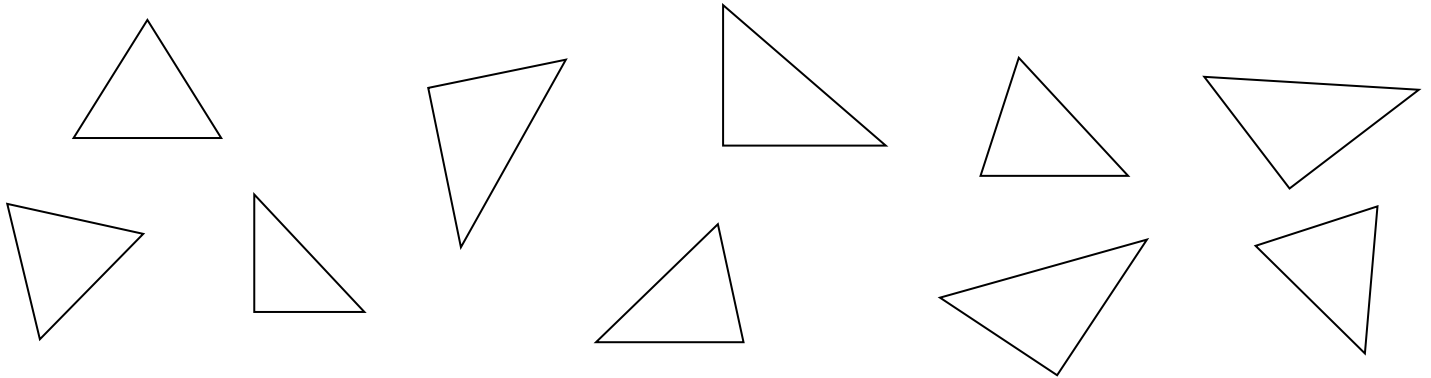
Evaluation

Percevoir et connaître quelques relations et propriétés géométriques : angle droit.

Décrire, reproduire, tracer un carré, un rectangle, un triangle rectangle

Utiliser des instruments pour réaliser des tracés : règle, équerre ou gabarit de l'angle droit

**N°1 Colorie en bleu les triangles rectangles :**

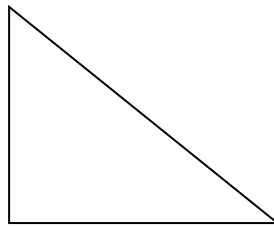


**N°2 Légende le triangle rectangle.**

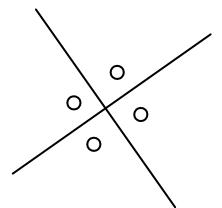
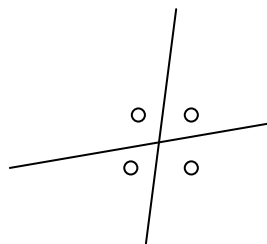
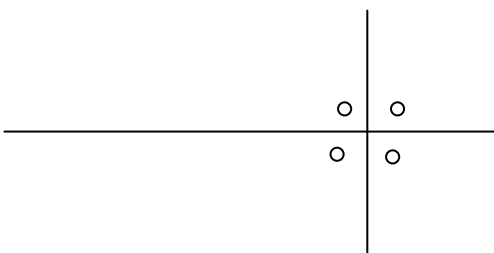
Un sommet ●

● Un côté

L'angle droit ●



**N°3 Colorie les gommettes qui marquent des angles droits.**



**N°4 Trouve les angles droits de la figure suivante.**

